

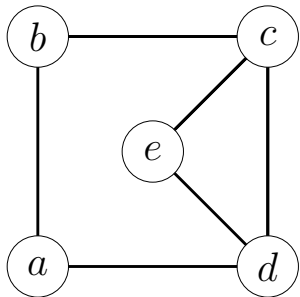
Algorithmen für Planare Graphen

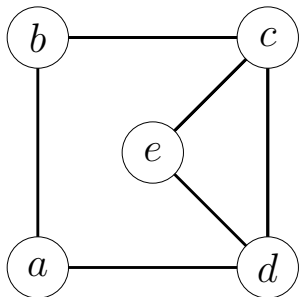
19. Mai 2020, Übung 2

Lars Gottesbüren

INSTITUT FÜR THEORETISCHE INFORMATIK

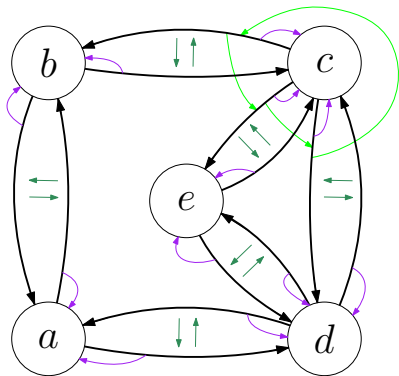




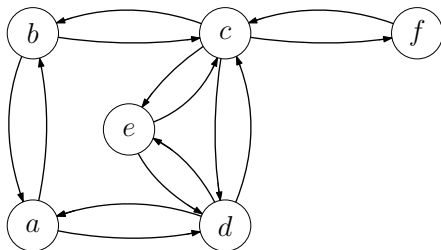


- Liste aller Knoten



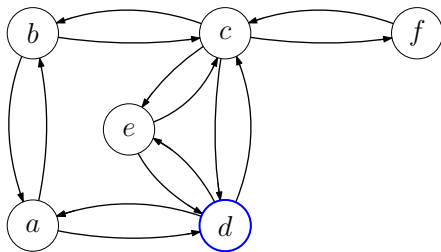


- Liste aller Knoten
- Knoten: Liste gerichteter Kanten entgegen dem Uhrzeigersinn
- Kante:
 - Zeiger auf entgegengerichtete Kante
 - Zeiger auf Ursprungsknoten



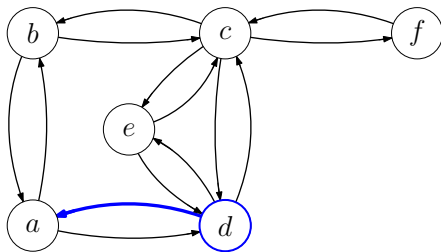
Duale Knoten

- Wähle einen Knoten und eine ausgehende Kante beliebig.
- Beim nächsten Knoten wähle erste Kante gegen den Uhrzeigersinn.
- Markiere jede traversierte Kante mit der aktuellen *Facetten-ID*.



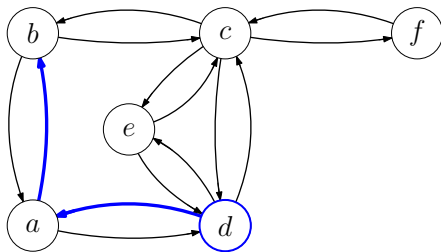
Duale Knoten

- Wähle einen Knoten und eine ausgehende Kante beliebig.
- Beim nächsten Knoten wähle erste Kante gegen den Uhrzeigersinn.
- Markiere jede traversierte Kante mit der aktuellen *Facetten-ID*.



Duale Knoten

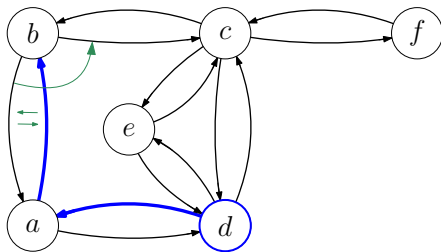
- Wähle einen Knoten und eine ausgehende Kante beliebig.
- Beim nächsten Knoten wähle erste Kante gegen den Uhrzeigersinn.
- Markiere jede traversierte Kante mit der aktuellen *Facetten-ID*.



Duale Knoten

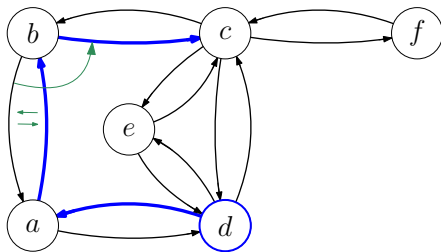
- Wähle einen Knoten und eine ausgehende Kante beliebig.
- Beim nächsten Knoten wähle erste Kante gegen den Uhrzeigersinn.
- Markiere jede traversierte Kante mit der aktuellen *Facetten-ID*.

Duale Knoten

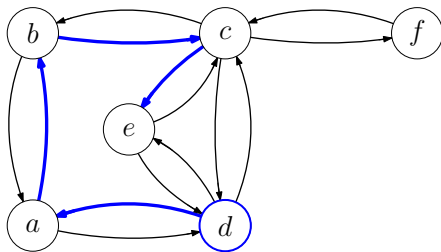


- Wähle einen Knoten und eine ausgehende Kante beliebig.
- Beim nächsten Knoten wähle erste Kante gegen den Uhrzeigersinn.
- Markiere jede traversierte Kante mit der aktuellen *Facetten-ID*.

Duale Knoten

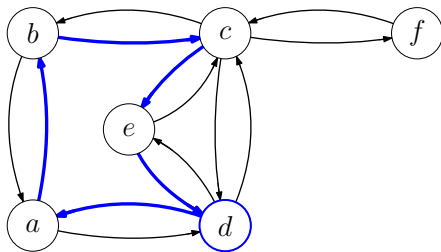


- Wähle einen Knoten und eine ausgehende Kante beliebig.
- Beim nächsten Knoten wähle erste Kante gegen den Uhrzeigersinn.
- Markiere jede traversierte Kante mit der aktuellen *Facetten-ID*.



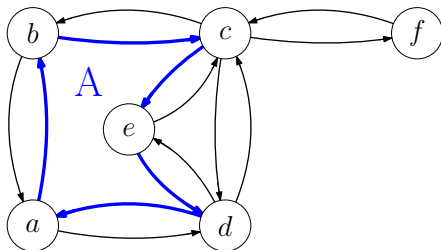
Duale Knoten

- Wähle einen Knoten und eine ausgehende Kante beliebig.
- Beim nächsten Knoten wähle erste Kante gegen den Uhrzeigersinn.
- Markiere jede traversierte Kante mit der aktuellen *Facetten-ID*.



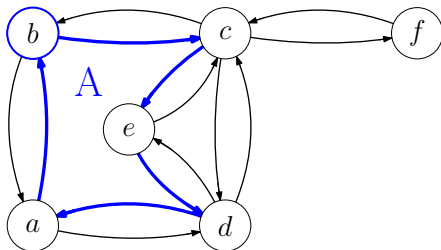
Duale Knoten

- Wähle einen Knoten und eine ausgehende Kante beliebig.
- Beim nächsten Knoten wähle erste Kante gegen den Uhrzeigersinn.
- Markiere jede traversierte Kante mit der aktuellen *Facetten-ID*.
- Erhöhe die *Facetten-ID* wenn wieder beim Ausgangsknoten angekommen.



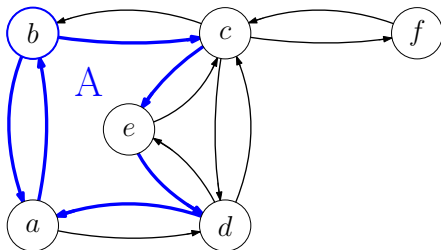
Duale Knoten

- Wähle einen Knoten und eine ausgehende Kante beliebig.
- Beim nächsten Knoten wähle erste Kante gegen den Uhrzeigersinn.
- Markiere jede traversierte Kante mit der aktuellen *Facetten-ID*.
- Erhöhe die *Facetten-ID* wenn wieder beim Ausgangsknoten angekommen.



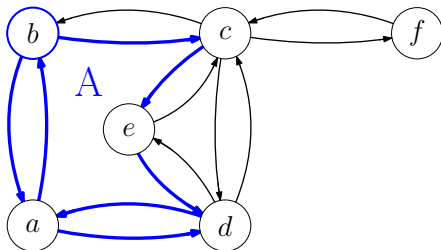
Duale Knoten

- Wähle einen Knoten und eine ausgehende Kante beliebig.
- Beim nächsten Knoten wähle erste Kante gegen den Uhrzeigersinn.
- Markiere jede traversierte Kante mit der aktuellen *Facetten-ID*.
- Erhöhe die *Facetten-ID* wenn wieder beim Ausgangsknoten angekommen.



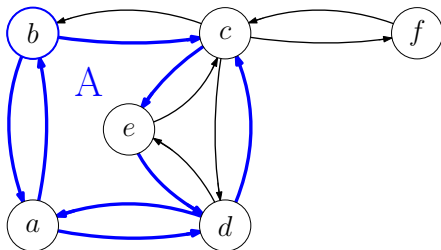
Duale Knoten

- Wähle einen Knoten und eine ausgehende Kante beliebig.
- Beim nächsten Knoten wähle erste Kante gegen den Uhrzeigersinn.
- Markiere jede traversierte Kante mit der aktuellen *Facetten-ID*.
- Erhöhe die *Facetten-ID* wenn wieder beim Ausgangsknoten angekommen.



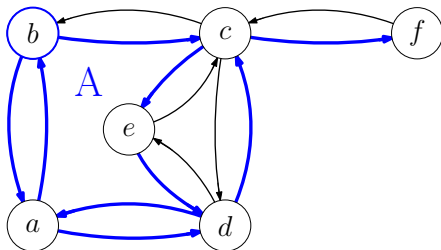
Duale Knoten

- Wähle einen Knoten und eine ausgehende Kante beliebig.
- Beim nächsten Knoten wähle erste Kante gegen den Uhrzeigersinn.
- Markiere jede traversierte Kante mit der aktuellen *Facetten-ID*.
- Erhöhe die *Facetten-ID* wenn wieder beim Ausgangsknoten angekommen.



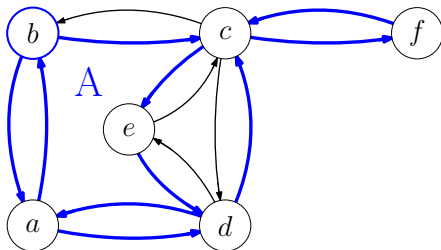
Duale Knoten

- Wähle einen Knoten und eine ausgehende Kante beliebig.
- Beim nächsten Knoten wähle erste Kante gegen den Uhrzeigersinn.
- Markiere jede traversierte Kante mit der aktuellen *Facetten-ID*.
- Erhöhe die *Facetten-ID* wenn wieder beim Ausgangsknoten angekommen.



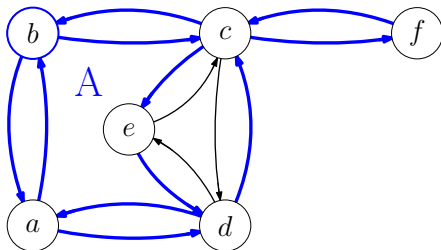
Duale Knoten

- Wähle einen Knoten und eine ausgehende Kante beliebig.
- Beim nächsten Knoten wähle erste Kante gegen den Uhrzeigersinn.
- Markiere jede traversierte Kante mit der aktuellen *Facetten-ID*.
- Erhöhe die *Facetten-ID* wenn wieder beim Ausgangsknoten angekommen.



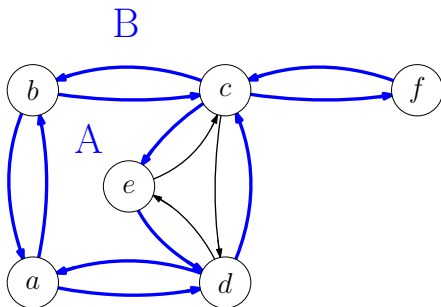
Duale Knoten

- Wähle einen Knoten und eine ausgehende Kante beliebig.
- Beim nächsten Knoten wähle erste Kante gegen den Uhrzeigersinn.
- Markiere jede traversierte Kante mit der aktuellen *Facetten-ID*.
- Erhöhe die *Facetten-ID* wenn wieder beim Ausgangsknoten angekommen.



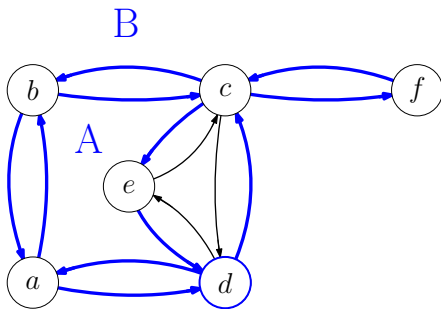
Duale Knoten

- Wähle einen Knoten und eine ausgehende Kante beliebig.
- Beim nächsten Knoten wähle erste Kante gegen den Uhrzeigersinn.
- Markiere jede traversierte Kante mit der aktuellen *Facetten-ID*.
- Erhöhe die *Facetten-ID* wenn wieder beim Ausgangsknoten angekommen.



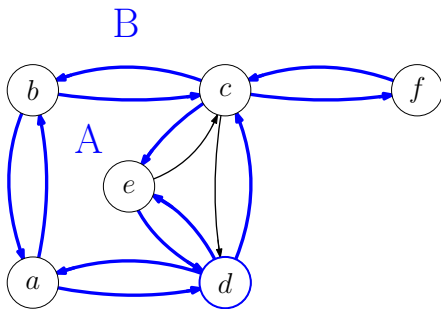
Duale Knoten

- Wähle einen Knoten und eine ausgehende Kante beliebig.
- Beim nächsten Knoten wähle erste Kante gegen den Uhrzeigersinn.
- Markiere jede traversierte Kante mit der aktuellen *Facetten-ID*.
- Erhöhe die *Facetten-ID* wenn wieder beim Ausgangsknoten angekommen.



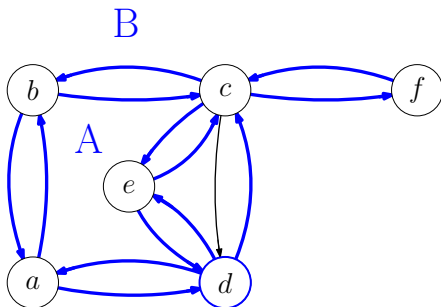
Duale Knoten

- Wähle einen Knoten und eine ausgehende Kante beliebig.
- Beim nächsten Knoten wähle erste Kante gegen den Uhrzeigersinn.
- Markiere jede traversierte Kante mit der aktuellen *Facetten-ID*.
- Erhöhe die *Facetten-ID* wenn wieder beim Ausgangsknoten angekommen.



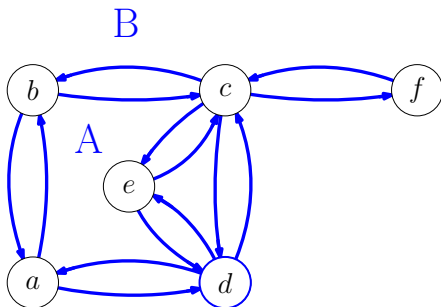
Duale Knoten

- Wähle einen Knoten und eine ausgehende Kante beliebig.
- Beim nächsten Knoten wähle erste Kante gegen den Uhrzeigersinn.
- Markiere jede traversierte Kante mit der aktuellen *Facetten-ID*.
- Erhöhe die *Facetten-ID* wenn wieder beim Ausgangsknoten angekommen.



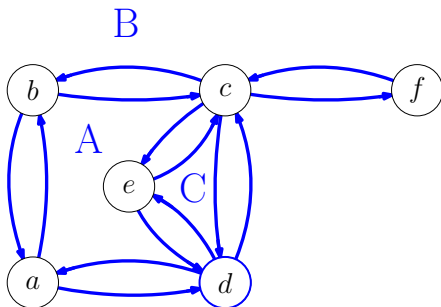
Duale Knoten

- Wähle einen Knoten und eine ausgehende Kante beliebig.
- Beim nächsten Knoten wähle erste Kante gegen den Uhrzeigersinn.
- Markiere jede traversierte Kante mit der aktuellen *Facetten-ID*.
- Erhöhe die *Facetten-ID* wenn wieder beim Ausgangsknoten angekommen.



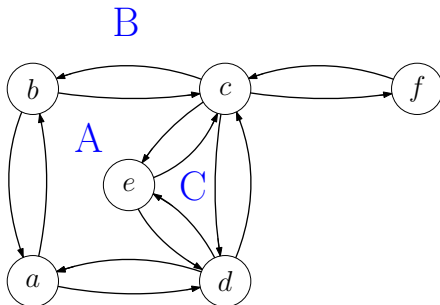
Duale Knoten

- Wähle einen Knoten und eine ausgehende Kante beliebig.
- Beim nächsten Knoten wähle erste Kante gegen den Uhrzeigersinn.
- Markiere jede traversierte Kante mit der aktuellen *Facetten-ID*.
- Erhöhe die *Facetten-ID* wenn wieder beim Ausgangsknoten angekommen.



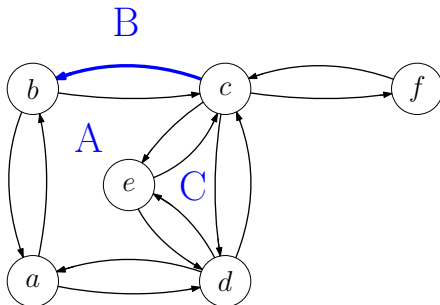
Duale Knoten

- Wähle einen Knoten und eine ausgehende Kante beliebig.
- Beim nächsten Knoten wähle erste Kante gegen den Uhrzeigersinn.
- Markiere jede traversierte Kante mit der aktuellen *Facetten-ID*.
- Erhöhe die *Facetten-ID* wenn wieder beim Ausgangsknoten angekommen.



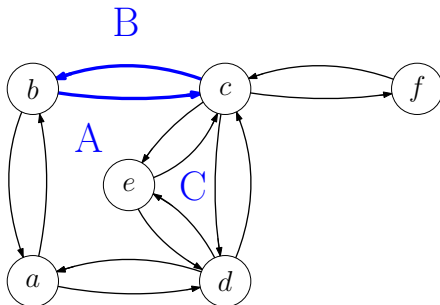
Duale Kanten

- Traversiere erneut jede Facette.
- Betrachte Hin- und Rückkante und füge für die dualen Knoten mit den entsprechenden *Facetten-IDs* eine duale Kante ein.
- Die dualen Kanten werden in der richtigen Reihenfolge eingefügt.



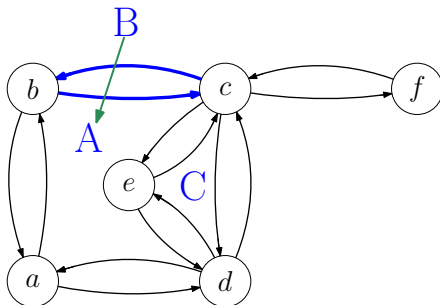
Duale Kanten

- Traversiere erneut jede Facette.
- Betrachte Hin- und Rückkante und füge für die dualen Knoten mit den entsprechenden *Facetten-IDs* eine duale Kante ein.
- Die dualen Kanten werden in der richtigen Reihenfolge eingefügt.



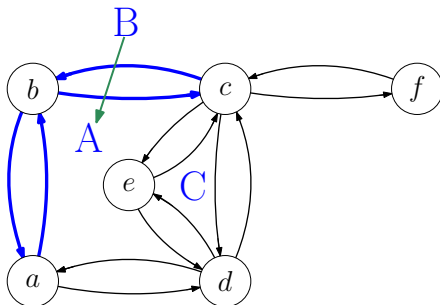
Duale Kanten

- Traversiere erneut jede Facette.
- Betrachte Hin- und Rückkante und füge für die dualen Knoten mit den entsprechenden *Facetten-IDs* eine duale Kante ein.
- Die dualen Kanten werden in der richtigen Reihenfolge eingefügt.



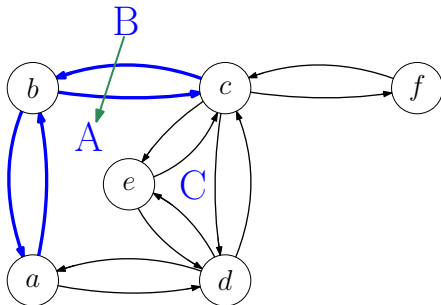
Duale Kanten

- Traversiere erneut jede Facette.
- Betrachte Hin- und Rückkante und füge für die dualen Knoten mit den entsprechenden *Facetten-IDs* eine duale Kante ein.
- Die dualen Kanten werden in der richtigen Reihenfolge eingefügt.



Duale Kanten

- Traversiere erneut jede Facette.
- Betrachte Hin- und Rückkante und füge für die dualen Knoten mit den entsprechenden *Facetten-IDs* eine duale Kante ein.
- Die dualen Kanten werden in der richtigen Reihenfolge eingefügt.



Rückkanten

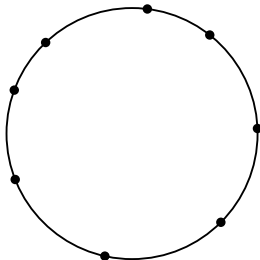
- Speichere beim Einfügen der Kanten Zeiger von Kante im Ausgangsgraphen auf die Kante im Dualgraphen
- Wenn beim Einfügen einer Kante die Rückkante im Ausgangsgraphen schon einen Zeiger hat, ergänze beide Zeiger im Dualgraphen

G ist *außenplanar*.

- \Leftrightarrow G lässt sich so planar einbetten, dass jeder Knoten auf der äußeren Facette liegt.
- \Leftrightarrow Fügt man einen Knoten mit Kanten zu allen vorhandenen Knoten zu G hinzu, ist G immer noch planar.
- ① G ist genau dann außenplanar, wenn er keine Unterteilung von K_4 oder $K_{2,3}$ enthält.
- ② Ein außenplanarer Graph hat höchstens $2n - 3$ Kanten.

2.1 – Außenplanare Graphen

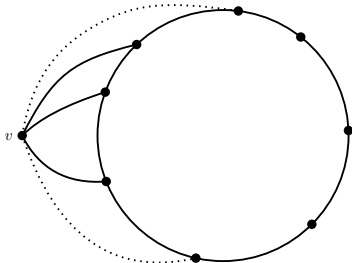
G ist außenplanar $\Rightarrow G$ enthält keine Unterteilung von K_4 oder $K_{2,3}$.



- Betrachte außenplanare Einbettung von G .

2.1 – Außenplanare Graphen

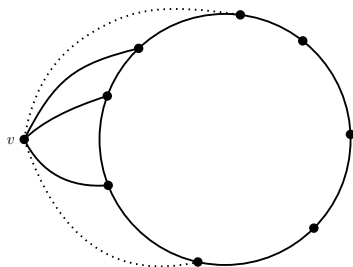
G ist außenplanar $\Rightarrow G$ enthält keine Unterteilung von K_4 oder $K_{2,3}$.



- Betrachte außenplanare Einbettung von G .
- Füge Knoten v hinzu und verbinde ihn mit allen Knoten aus $G \rightarrow G'$.
- G' ist planar $\Rightarrow G'$ enthält keine Unterteilung des K_5 oder $K_{3,3}$.
 $\Rightarrow G$ enthält keine Unterteilung des K_4 oder $K_{2,3}$.

2.1 – Außenplanare Graphen

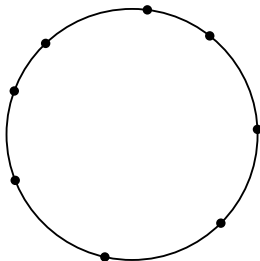
G ist außenplanar $\Leftrightarrow G$ enthält keine Unterteilung von K_4 oder $K_{2,3}$.



- Füge Knoten v hinzu und verbinde ihn mit allen Knoten aus $G \rightarrow G'$.
- G' enthält weder K_5 noch $K_{3,3}$ als Unterteilung.
- $\Rightarrow G'$ ist planar.
- Betrachte planare Einbettung von G' mit v auf der äußeren Facette.

2.1 – Außenplanare Graphen

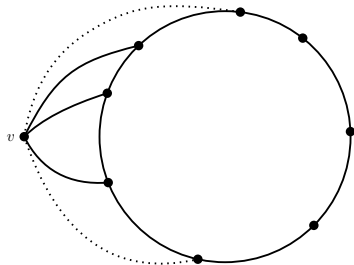
G ist außenplanar $\Leftrightarrow G$ enthält keine Unterteilung von K_4 oder $K_{2,3}$.



- Füge Knoten v hinzu und verbinde ihn mit allen Knoten aus $G \rightarrow G'$.
- G' enthält weder K_5 noch $K_{3,3}$ als Unterteilung.
- $\Rightarrow G'$ ist planar.
- Betrachte planare Einbettung von G' mit v auf der äußeren Facette.
- Lösche $v \Rightarrow$ alle Knoten von G liegen auf der äußeren Facette.

2.2 – Außenplanare Graphen

Ein außenplanarer Graph G enthält höchstens $2n - 3$ Kanten.



- Füge Knoten v hinzu und verbinde ihn mit allen Knoten von $G \rightarrow G'$.
- G' hat $m' = m + n$ Kanten und $n' = n + 1$ Knoten.
- Da G' planar ist gilt: $m' \leq 3n' - 6$
- Also: $n + m \leq 3(n + 1) - 6$
 $\Rightarrow m \leq 2n - 3$

3 – Färben außenplanarer Graphen

Zeigen Sie dass außenplanare Graphen 3-färbbar sind:

① mithilfe des 4-Farben-Satzes

② ohne den 4 -Farben-Satz

Zeigen Sei dass außenplanare Graphen 3-färbbar sind:

- 1 mithilfe des 4-Farben-Satzes
 - Füge Knoten v ein und verbinde zu allen Knoten auf der äußeren Facette
 - Berechne 4-Färbung
 - kein anderer Knoten hat die gleiche Farbe wie $v \Rightarrow$ 3-Färbung
- 2 ohne den 4 -Farben-Satz

3.2 – Färben außenplanarer Graphen

- Klauere den Beweis für 5-Listenfärbbarkeit

3.2 – Färben außenplanarer Graphen

- Klauere den Beweis für 5-Listenfärbbarkeit
- Fall 1. Keine Sehne \Rightarrow Der Graph ist ein Kreis.
 - gerade Länge \Rightarrow 2-färbbar
 - ungerade Länge \Rightarrow 3-färbbar

3.2 – Färben außenplanarer Graphen

- Klau den Beweis für 5-Listenfärbbarkeit
- Fall 1. Keine Sehne \Rightarrow Der Graph ist ein Kreis.
 - gerade Länge \Rightarrow 2-färbbar
 - ungerade Länge \Rightarrow 3-färbbar
- Fall 2. Graph hat Sehne $e = (u, v)$

3.2 – Färben außenplanarer Graphen

- Klauere den Beweis für 5-Listenfärbbarkeit
- Fall 1. Keine Sehne \Rightarrow Der Graph ist ein Kreis.
 - gerade Länge \Rightarrow 2-färbbar
 - ungerade Länge \Rightarrow 3-färbbar
- Fall 2. Graph hat Sehne $e = (u, v)$
 - Zerlege Graph an e in G_1, G_2 , färbe rekursiv

3.2 – Färben außenplanarer Graphen

- Klauere den Beweis für 5-Listenfärbbarkeit
- Fall 1. Keine Sehne \Rightarrow Der Graph ist ein Kreis.
 - gerade Länge \Rightarrow 2-färbbar
 - ungerade Länge \Rightarrow 3-färbbar
- Fall 2. Graph hat Sehne $e = (u, v)$
 - Zerlege Graph an e in G_1, G_2 , färbe rekursiv
 - Permutiere die Färbung von G_2 sodass u (v) in G_1 und G_2 die gleiche Farbe hat

3.2 – Färben außenplanarer Graphen

- Klau den Beweis für 5-Listenfärbbarkeit
- Fall 1. Keine Sehne \Rightarrow Der Graph ist ein Kreis.
 - gerade Länge \Rightarrow 2-färbbar
 - ungerade Länge \Rightarrow 3-färbbar
- Fall 2. Graph hat Sehne $e = (u, v)$
 - Zerlege Graph an e in G_1, G_2 , färbe rekursiv
 - Permutiere die Färbung von G_2 sodass u (v) in G_1 und G_2 die gleiche Farbe hat
 - u und v haben unterschiedliche Farben. \Rightarrow Legt 2 Farben in G_2 fest.
 \Rightarrow actually 3

4.1 – Färbung von Graphen

Für einen Graphen G bezeichnet $\chi(G)$ die minimale Anzahl von Farben, die nötig ist um G so zu färben, dass benachbarte Knoten verschiedene Farben haben.

Zeigen Sie: Für jeden Graphen mit Maximalgrad Δ gilt $\chi(G) \leq \Delta + 1$.

4.1 – Färbung von Graphen

Für einen Graphen G bezeichnet $\chi(G)$ die minimale Anzahl von Farben, die nötig ist um G so zu färben, dass benachbarte Knoten verschiedene Farben haben.

Zeigen Sie: Für jeden Graphen mit Maximalgrad Δ gilt $\chi(G) \leq \Delta + 1$.

- Färbe die Knoten iterativ.
- Gib jedem Knoten eine Farbe, die noch keiner seiner Nachbarn hat.
- Es gibt maximal Δ Nachbarn.
- \Rightarrow Es gibt immer eine Farbe, die noch nicht verwendet wird.

4.2 – Färbung von Graphen

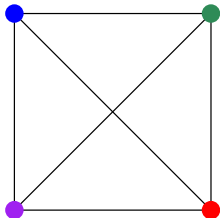
Für einen Graphen G bezeichnet $\chi(G)$ die minimale Anzahl von Farben, die nötig ist um G so zu färben, dass benachbarte Knoten verschiedene Farben haben.

Versuchen Sie Familien von Graphen anzugeben, für die $\chi(G) = \Delta + 1$ gilt.

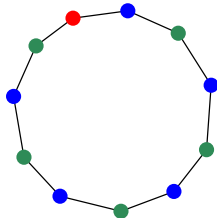
4.2 – Färbung von Graphen

Für einen Graphen G bezeichnet $\chi(G)$ die minimale Anzahl von Farben, die nötig ist um G so zu färben, dass benachbarte Knoten verschiedene Farben haben.

Versuchen Sie Familien von Graphen anzugeben, für die $\chi(G) = \Delta + 1$ gilt.



K_n



Kreise ungerader Länge

Zeigen Sie

Ein Graph G ist genau dann 2-färbbar, wenn G keine Kreise ungerader Länge enthält.

Zeigen Sie

Ein Graph G ist genau dann 2-färbbar, wenn G keine Kreise ungerader Länge enthält.

“ \Rightarrow ”

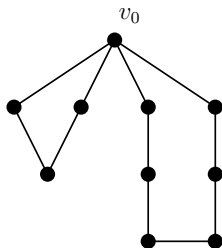
- Angenommen wir haben eine 2-Färbung von G , mit Knotenmenge R ist rot und Knotenmenge B ist blau.
- Jede Kante führt von R nach B oder von B nach R .
- Um mit einem Pfad durch G am Startknoten zu enden, muss man eine gerade Anzahl an Schritten gemacht haben.

Zeigen Sie

Ein Graph G ist genau dann 2-färbbar, wenn G keine Kreise ungerader Länge enthält.

“ \Leftarrow ”

- Angenommen jeder Kreis in G hat gerade Länge.
- Für jede Zusammenhangskomponente:
 - Wähle beliebigen Knoten v_0 .
 - $d(v)$: Abstand von v zu v_0 .
 - Färbe v mit $d(v)$ gerade rot, sonst blau.
 - Wäre die Färbung ungültig, wird ein Kreis ungerader Länge induziert.

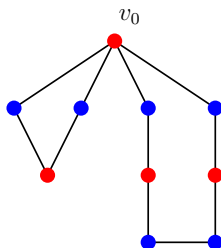


Zeigen Sie

Ein Graph G ist genau dann 2-färbbar, wenn G keine Kreise ungerader Länge enthält.

“ \Leftarrow ”

- Angenommen jeder Kreis in G hat gerade Länge.
- Für jede Zusammenhangskomponente:
 - Wähle beliebigen Knoten v_0 .
 - $d(v)$: Abstand von v zu v_0 .
 - Färbe v mit $d(v)$ gerade rot, sonst blau.
 - Wäre die Färbung ungültig, wird ein Kreis ungerader Länge induziert.

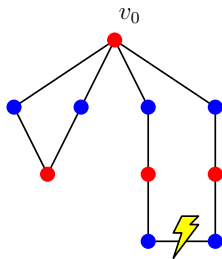


Zeigen Sie

Ein Graph G ist genau dann 2-färbbar, wenn G keine Kreise ungerader Länge enthält.

“ \Leftarrow ”

- Angenommen jeder Kreis in G hat gerade Länge.
- Für jede Zusammenhangskomponente:
 - Wähle beliebigen Knoten v_0 .
 - $d(v)$: Abstand von v zu v_0 .
 - Färbe v mit $d(v)$ gerade rot, sonst blau.
 - Wäre die Färbung ungültig, wird ein Kreis ungerader Länge induziert.



Zeigen Sie

Ein zweifach zusammenhängender planarer Graph (mit fester Einbettung) ist bipartit genau dann wenn sein Dualgraph Eulersch ist.

Hinweise

- Eulersch $\Leftrightarrow \forall v \in V \deg(v) \pmod 2 \equiv 0$
- zweifach \Rightarrow zusammenhängend jede Facette ist von einem Kreis begrenzt. Also keine Brücken oder Tentakel.

Zeigen Sie

2-färbbar \Leftrightarrow Dual eulersch

Zeigen Sie

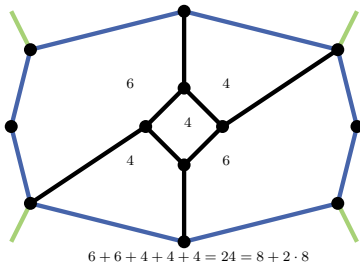
2-färbbar \Leftrightarrow Dual eulersch

" \Rightarrow " Jeder Kreis hat gerade Länge \Rightarrow Jede Facette hat geraden Grad \Rightarrow
Dual eulersch

5.2 – Euler

”←”

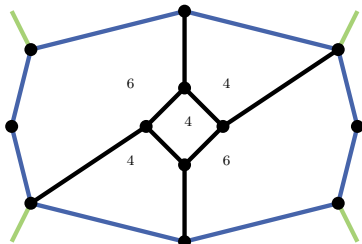
- Sei C ein Kreis. Zähle Facettengrade im Inneren von C .



5.2 – Euler

”←”

- Sei C ein Kreis. Zähle Facettengrade im Inneren von C .
- Kanten auf C 1x, Kanten im Inneren 2x



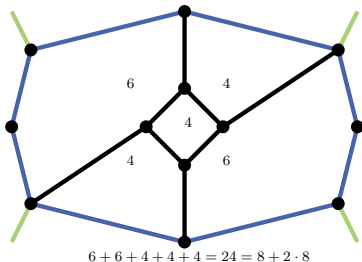
$$6 + 6 + 4 + 4 + 4 = 24 = 8 + 2 \cdot 8$$

$$\sum_{\text{face } f \in \text{inside}(C)} \underbrace{|f|}_{\text{gerade}} = |C| + 2|E \cap \text{inside}(C)|$$

5.2 – Euler

”←”

- Sei C ein Kreis. Zähle Facettengrade im Inneren von C .
- Kanten auf C 1x, Kanten im Inneren 2x



$$\sum_{\text{face } f \in \text{inside}(C)} \underbrace{|f|}_{\text{gerade}} = |C| + 2|E \cap \text{inside}(C)|$$

$\Rightarrow |C| \text{ gerade} \Rightarrow \text{Graph bipartit}$